



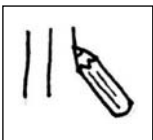




Das Essen mag ich gern!

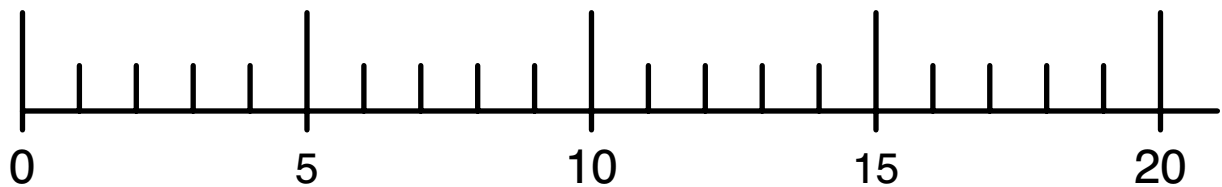
 <p>Burger</p>	 <p>Fisch</p>	 <p>Hähnchen</p>	 <p>Pizza</p>





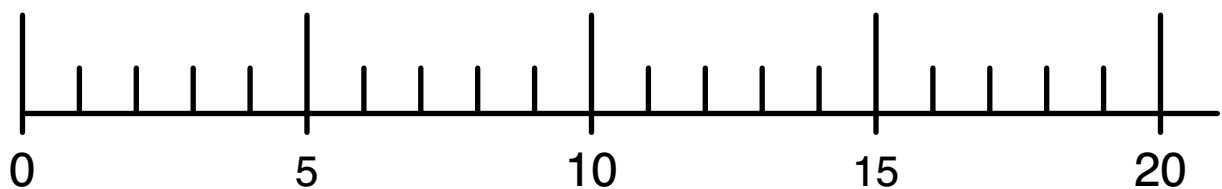
Der Zahlenstrahl bis 20

Trage die fehlenden Zahlen ein. Kontrolliere genau und zähle nach.



Der Zahlenstrahl bis 20

Trage die fehlenden Zahlen ein. Kontrolliere genau und zähle nach.



- Markiere die Zehnerzahlen farbig.
- Welche Zahlen kannst du halbieren? Findest du die Plusaufgabe? Schreibe auf deinen Block.

Zahlenrallye

Für welche Zahl auf dem Zahlenstrahl stehen die folgenden Buchstaben?

Suche dir einen Buchstaben aus, gehe zum Zahlenstrahl, suche die passende Zahl und schreibe sie an deinem Platz auf. Benutze deinen ausgefüllten Zahlenstrahl.



Buchstabe	Zahl
A	
B	
C	
D	
E	
F	