
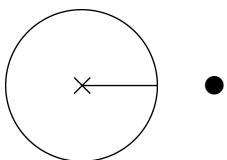
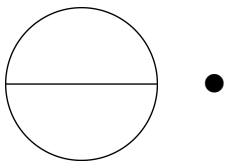

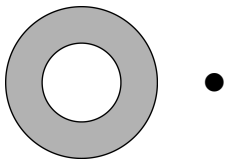
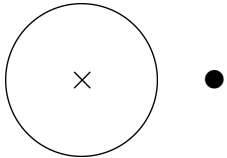


Der Kreis I



Wie heißen die gekennzeichneten Teile eines Kreises?
Ordne richtig zu!



Kreislinie

Mittelpunkt

Durchmesser

Kreisring

Kreisfläche

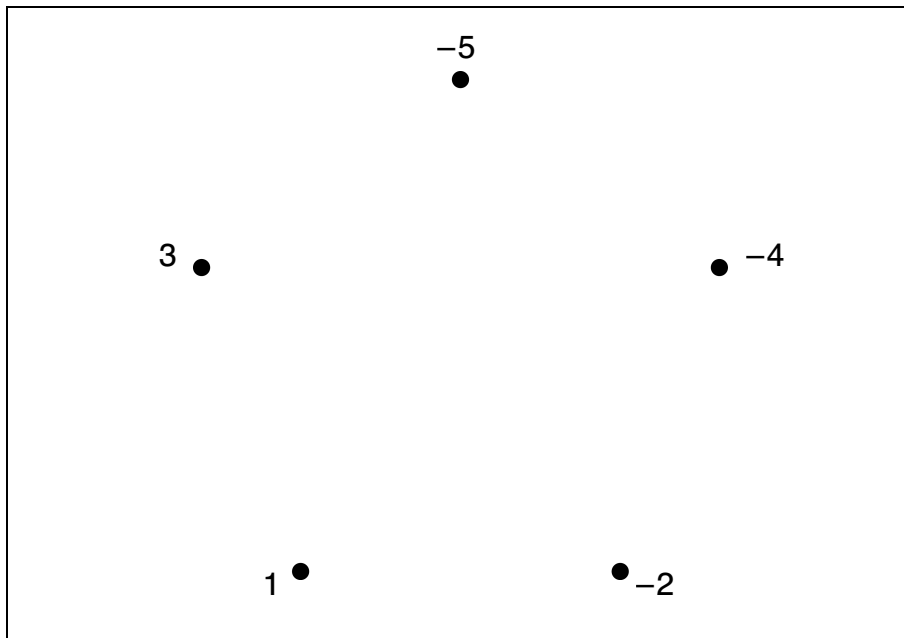
Radius

Ganze Zahlen ordnen I

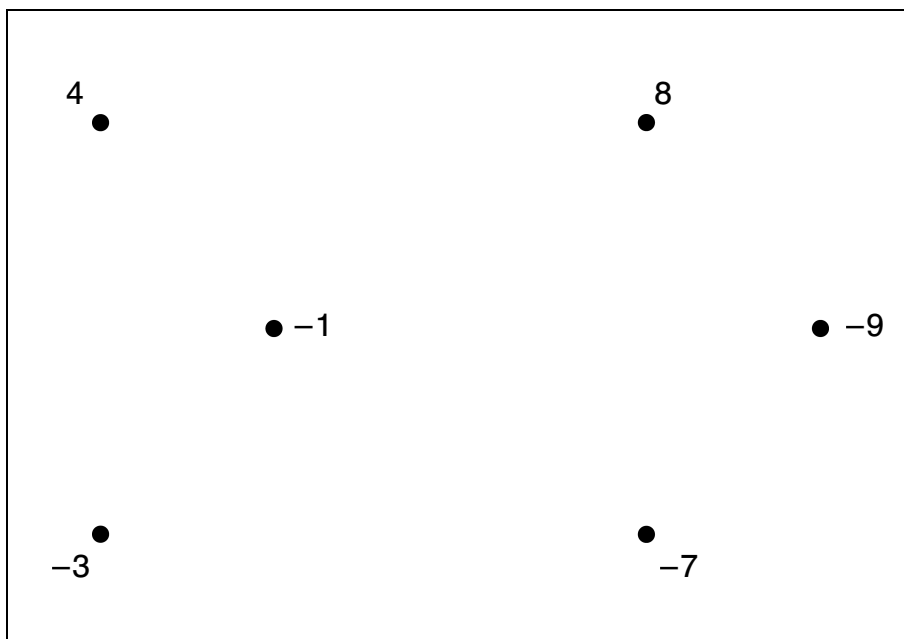


Verbinde die ganzen Zahlen der Größe nach.
 Beginne mit der kleinsten Zahl. Ziehe am Ende wieder die
 Verbindung zur Anfangszahl. Wenn du alle Zahlen richtig
 verbunden hast, erhältst du jeweils eine Figur.

Figur 1:



Figur 2:




Überlege dir zusammen mit einem Partner weitere Aufgaben.
 Notiert sie. Schreibt die Lösungen auf die Rückseite.
 Lasst eure Aufgaben von eurer Lehrkraft kontrollieren.

Gleichungen lösen I



Wie viele Hölzchen musst du in die Dose geben, damit du auf jeder Seite insgesamt gleich viele Hölzchen hast?

Zeichne die Anzahl ein. Die Anzahl der Hölzchen muss in jeder Dose gleich sein.



①

$$\text{Dose} + \text{3 Hölzchen} = \text{3 Dosen}$$

②

$$\text{2 Dosen} + \text{2 Hölzchen} = \text{4 Dosen}$$

③

$$\text{2 Dosen} + \text{7 Hölzchen} = \text{3 Dosen} + \text{3 Hölzchen}$$

④

$$\text{4 Dosen} = \text{3 Dosen} + \text{4 Hölzchen}$$

⑤

$$\text{5 Dosen} = \text{3 Dosen} + \text{6 Hölzchen}$$